

MATEMATIKA FELADATLAP

a 4. évfolyamosok számára

2017. január 26. 15:00 óra


NÉV: _____

SZÜLETÉSI ÉV: HÓ: NAP:


Tollal dolgozz! Zsebszámológépet nem használhatsz.
A feladatokat tetszés szerinti sorrendben oldhatod meg.
Minden próbálkozást, mellékszámítást a feladatlapon végezz!
Ha megoldásod ellenőrzésekor észreveszed, hogy hibáztál, a végső választ egyértelműen jelöld meg, a hibásat húzd át!
Mellékszámításokra az utolsó oldalt is használhatod.
A megoldásra összesen 45 perced van.
Csak azokban a feladatokban kell indokolnod a megoldásokat, ahol azt külön kérjük.

Jó munkát kívánunk!


5. A terítők fehér, szürke és fekete kis négyzetekből állnak. A terítők sorozatát a megkezdett minta szerint folytatjuk.



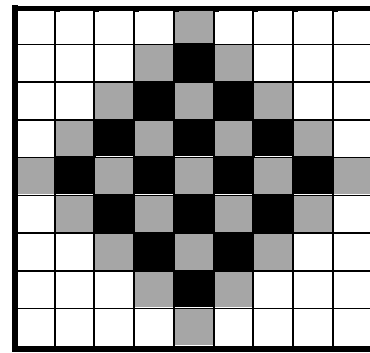
1.



2.



3.



4.

- a) Hány kis négyzet van a 2. terítőn? kis négyzet
- b) Hány szürke kis négyzet van a 3. terítőn? szürke kis négyzet
- c) Hány szürke kis négyzet lesz a 6. terítőn? szürke kis négyzet
- d) Hány fekete kis négyzet lesz az 5. terítőn? fekete kis négyzet
- e) Hány fehér kis négyzet lesz az 5. terítőn? fehér kis négyzet

a	
b	
c	
d	
e	

6. Eszter, Péter, István, Niki, Gyszi és Ági osztálytársak. Egyik vasárnap mindannyian jártak az uszodában.

- Legkorábban Niki érkezett az uszodába.
- Gyszi kétszer is volt az uszodában ezen a napon.
- István 15 óra után érkezett az uszodába.
- Péter 3 és fél órát töltött az uszodában.
- Eszter korábban volt az uszodában, mint Ági.

Az alábbi táblázatban szürkével jelöltük, hogy mikor voltak a gyerekek az uszodában.

Írd be a gyerekek nevét a táblázat megfelelő sorába!

	Órák												
Név	7	8	9	10	11	12	13	14	15	16	17	18	19
			■	■	■	■	■						
		■	■									■	■
												■	■
		■	■	■							■	■	
			■	■	■								
								■	■	■			

a	
---	--

